

Правила заполнения контурных карт

1. Контурная карта заполняется **ТОЛЬКО** карандашом или тонкой гелиевой ручкой. Никаких фломастеров и тем более маркеров!!!!
2. Все надписи пишем **ПЕЧАТНЫМИ** буквами.
3. Реки подписываем вдоль русла, города обозначаем кружочками (умное название - пунсон) и название города пишем слева или справа от кружочка.
4. Заполнение раздела «Условные обозначения» **ОБЯЗАТЕЛЬНО!** Особенно если вы рисуете границы, закрашиваете территории государств или обозначаете географические и исторические названия цифрами.

Выполнение этих правил неизбежно приведет к получению хорошей оценки.

Оценка будет снижена на балл, если:

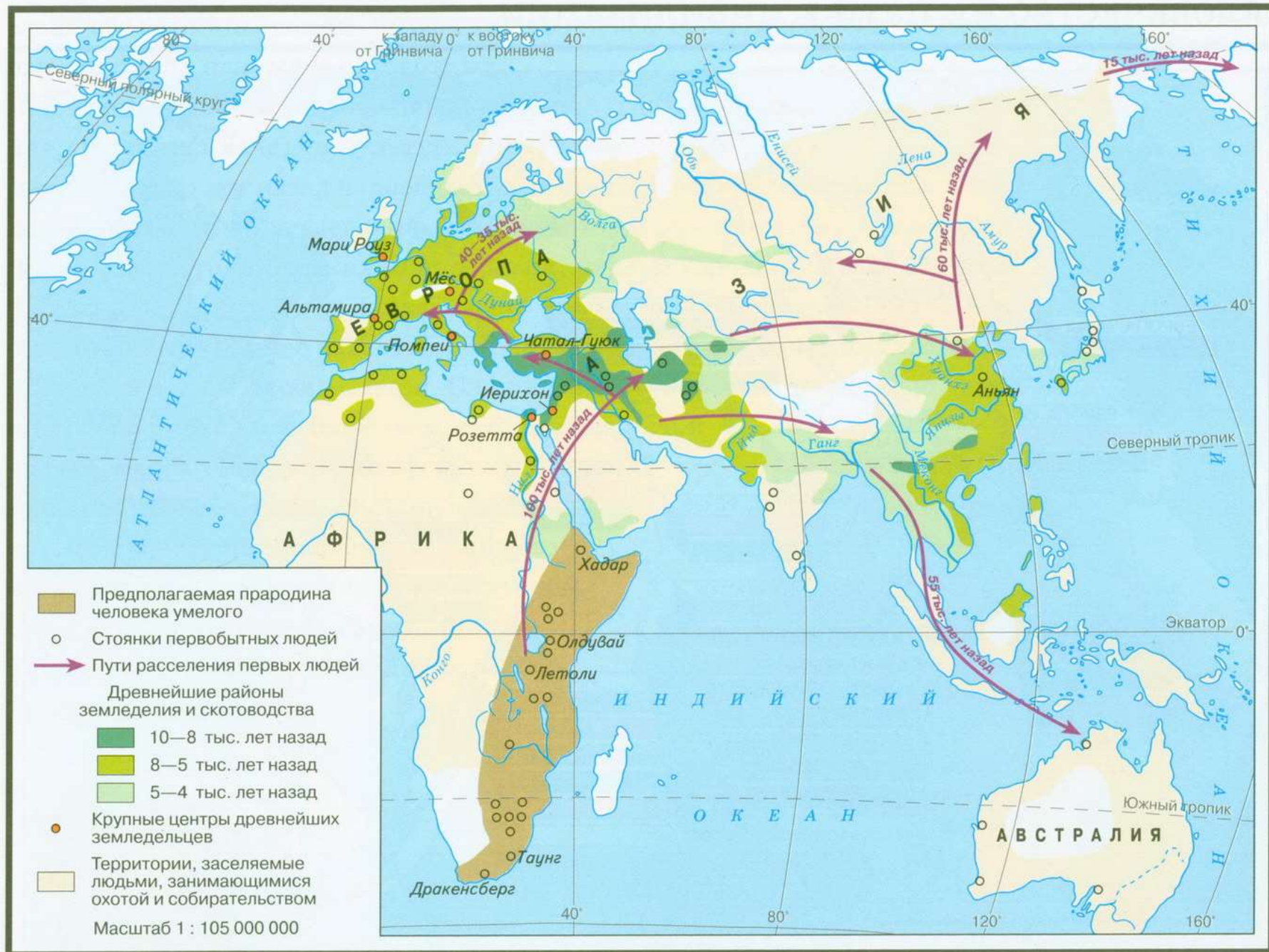
- Оформление контурной карты не соответствует требованиям
- Контурная карта сдана несвоевременно

В случае частичного выполнения задания контурная карта будет возвращена на доработку.

УДАЧИ!

МЕСТА ОБИТАНИЯ И РАССЕЛЕНИЯ ДРЕВНЕЙШИХ ЛЮДЕЙ

2

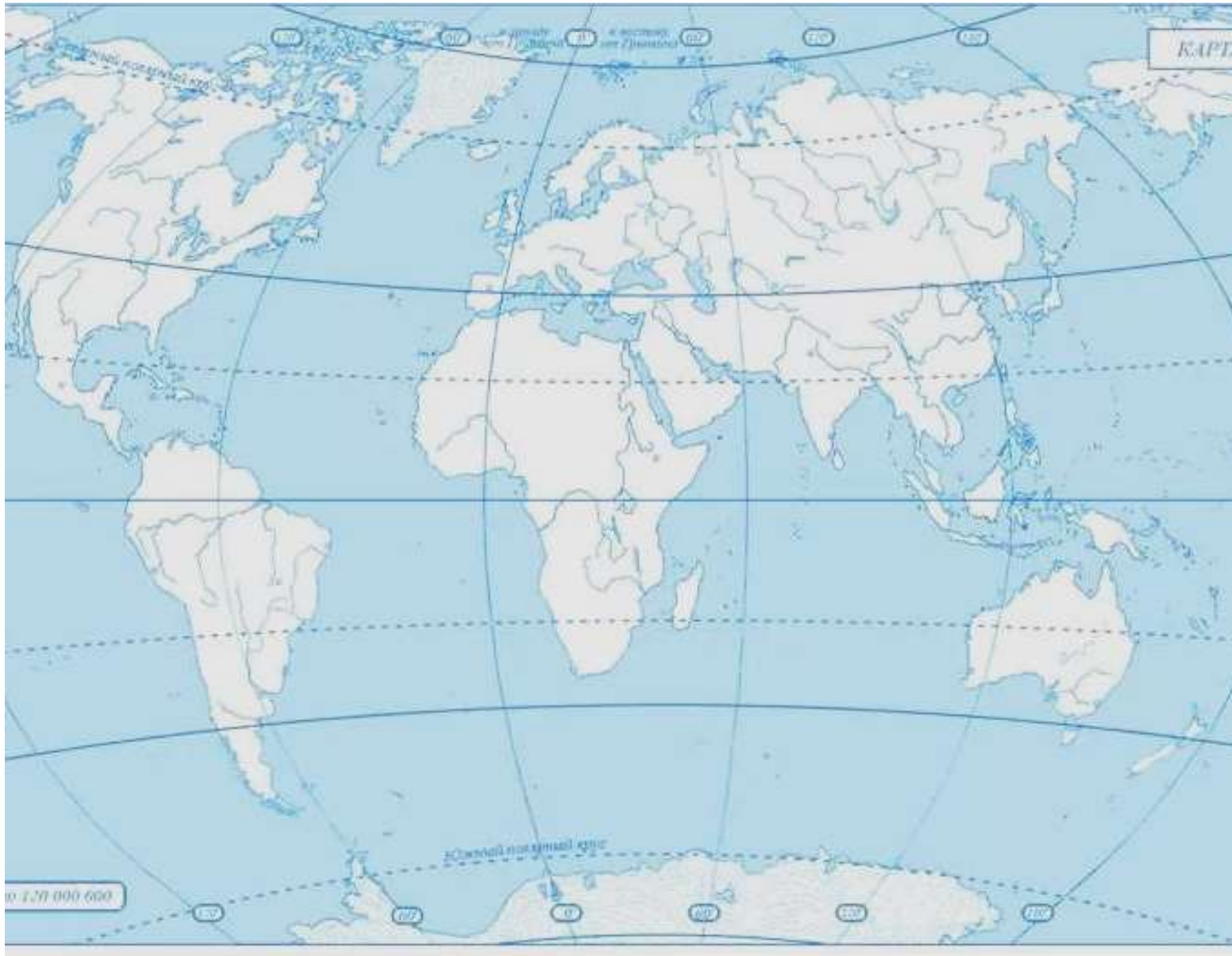


Задание 1.

Нанесите на контурную карту:

- предполагаемую прародину человека
- направления расселения первобытного человека
- названия материков и океанов

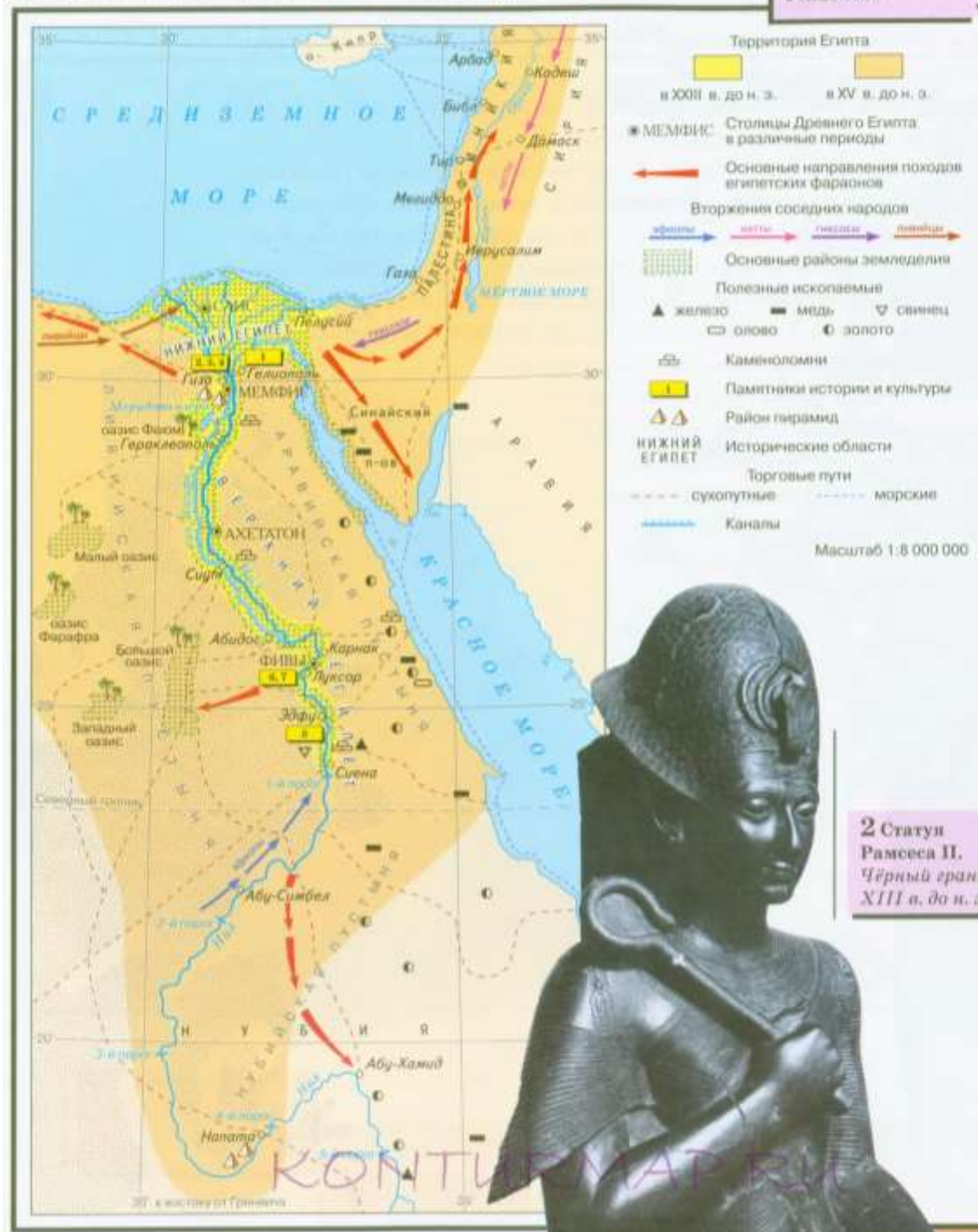
Условные обозначения

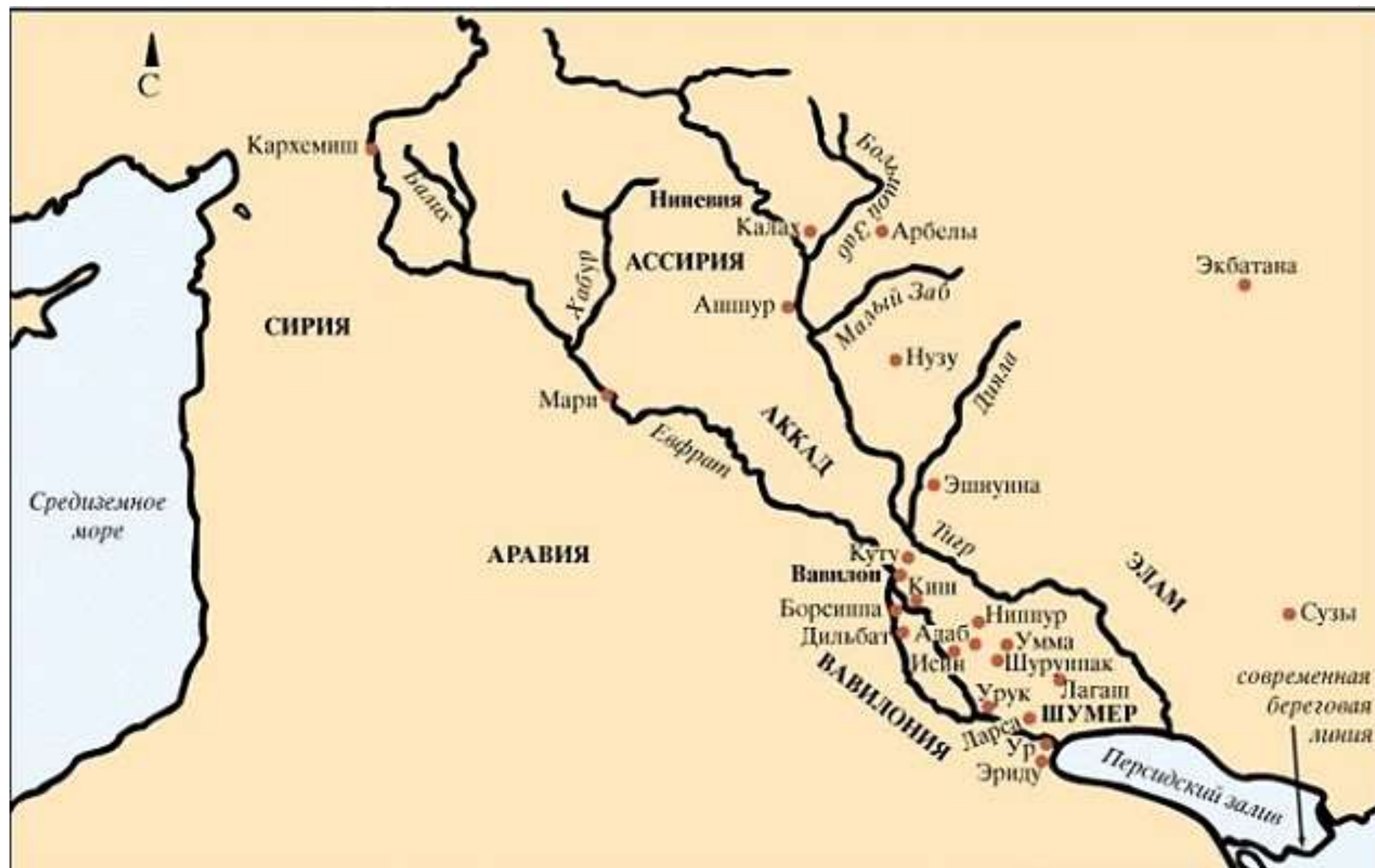


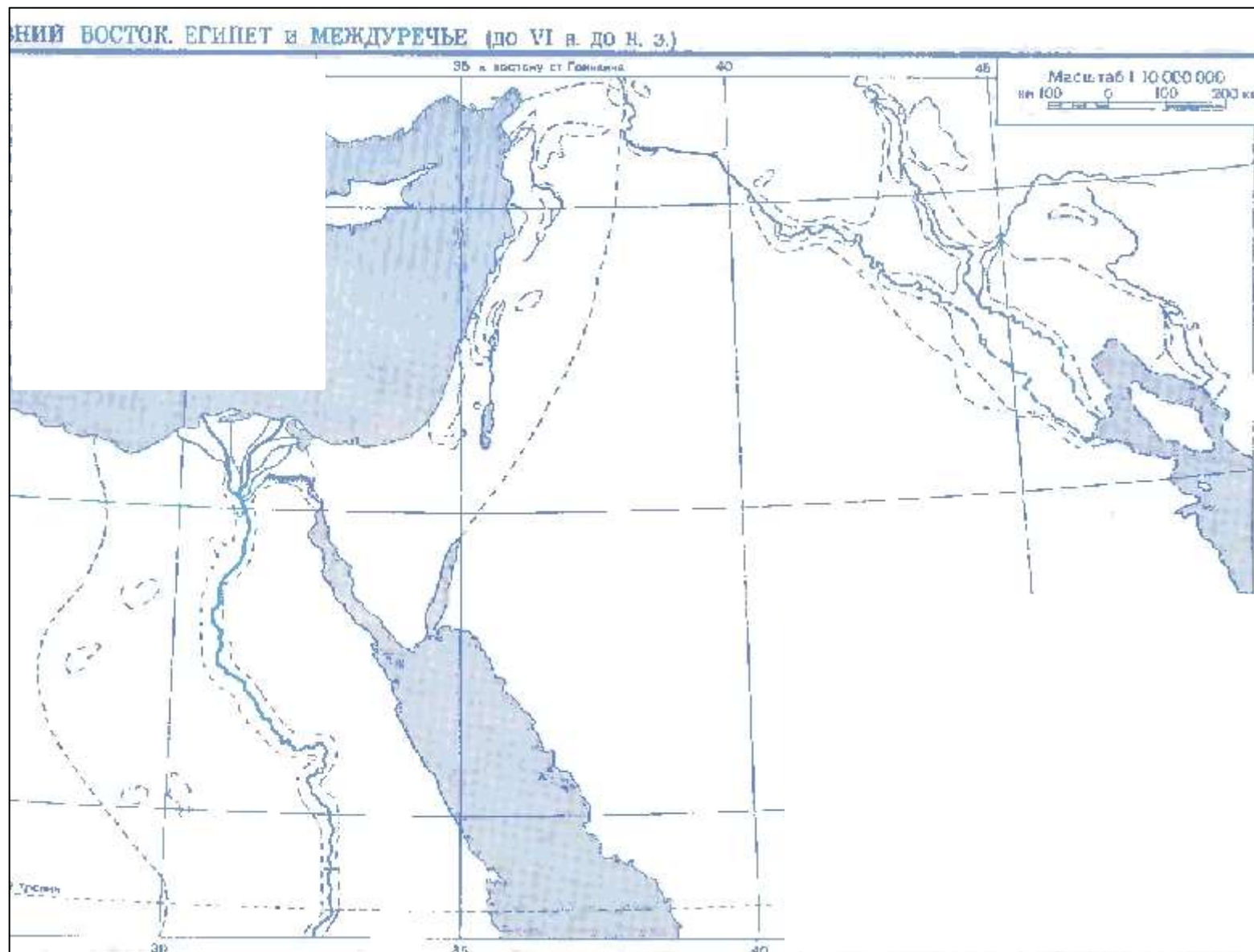
ДРЕВНИЙ ЕГИПЕТ, 3500—332 гг. до н.э.

1 Обелиск
Сенусерта I.
Гелиополь

4







Задание 2.

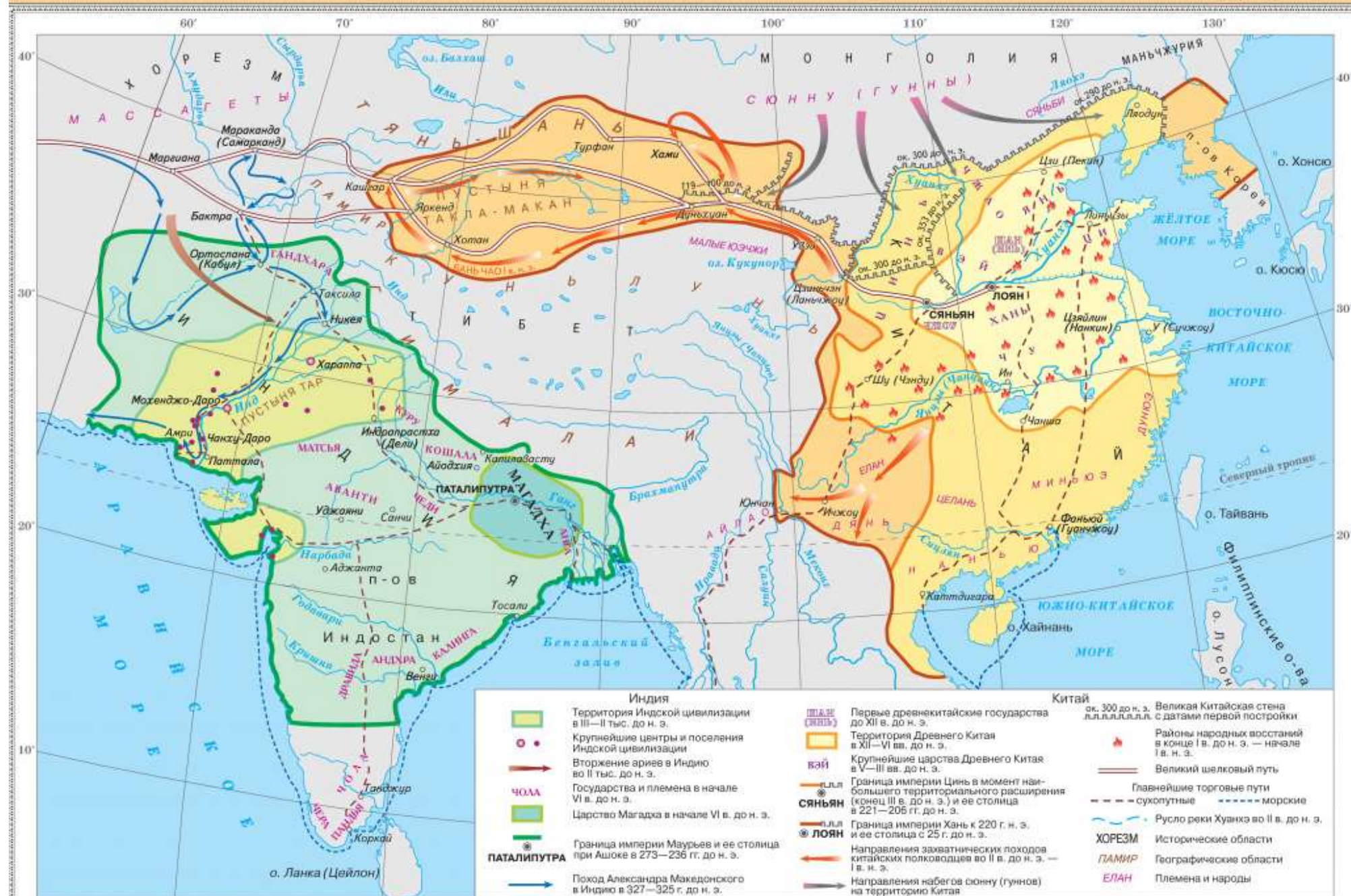
1. Подпишите названия крупнейших египетских городов: Фивы, Мемфис, .
2. Обозначьте границу Верхнего и Нижнего Египта
3. Обозначьте Нил, Средиземное море, Красное море, Синайский полуостров.
4. Подпишите реки Тигр и Евфрат, Персидский залив
5. Подпишите столицы древних государств: Ур, Вавилон, Урук, Киш, Лагаш, Ашур.
5. Закрасьте территории Шумера и Аккада

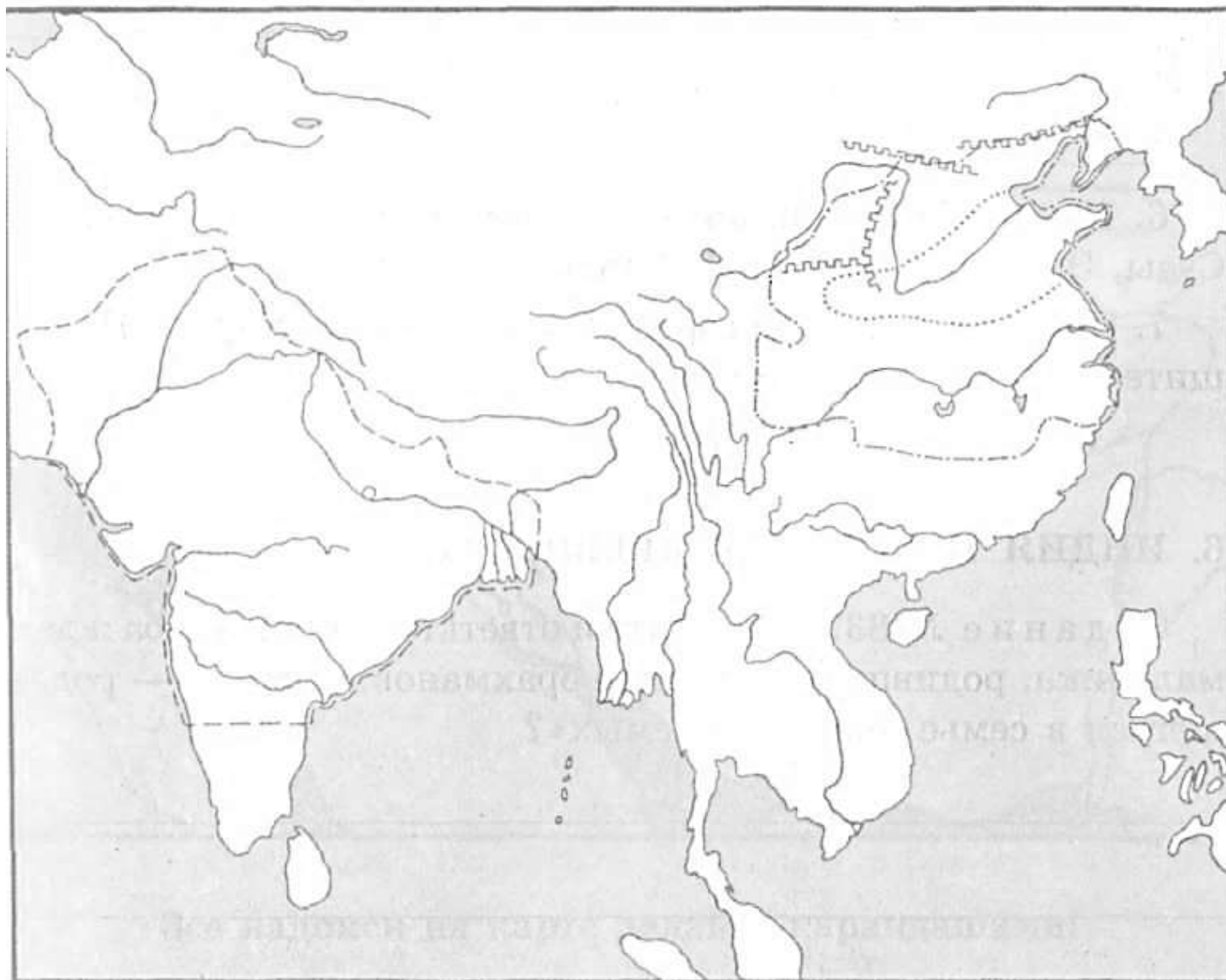
Условные обозначения:

Масштаб 1:7 700 000

ИНДИЯ И КИТАЙ В ДРЕВНОСТИ

Для общеобразовательных учреждений





Задание 3.

1. Подпишите Гималаи, Тибет, Инд, Ганг, Брахмапутра, Янцзы, Хуанхэ, Индийский океан, Японское море, Южно-Китайское море
2. Подпишите названия государств Китай, Индия.
3. Обозначьте Великую китайскую стену
4. Обозначьте территории Мохенджодаро и Хараппы

Условные обозначения:

ЭГЕЙСКИЙ МИР, 2000—1100 гг. до н. э.

9

■ Кносс Города-дворцы критского времени 2000—1400 гг. до н. э.

■ Пилос Города-дворцы микенского времени 1600—1100 гг. до н. э.

Пути переселения греческих племён

- ахейцев, XII в. до н. э.
- дорийцев, XII—XI вв. до н. э.
- ионийцев, XII—XI вв. до н. э.
- эолийцев, XII—XI вв. до н. э.

Территории, заселённые греческими племенами к I тыс. до н. э.

- | | |
|-----------|-----------|
| ахейцами | ионийцами |
| дорийцами | эолийцами |

→ Поход греков на Трою в 1200 г. до н. э.

1 Памятники истории и культуры

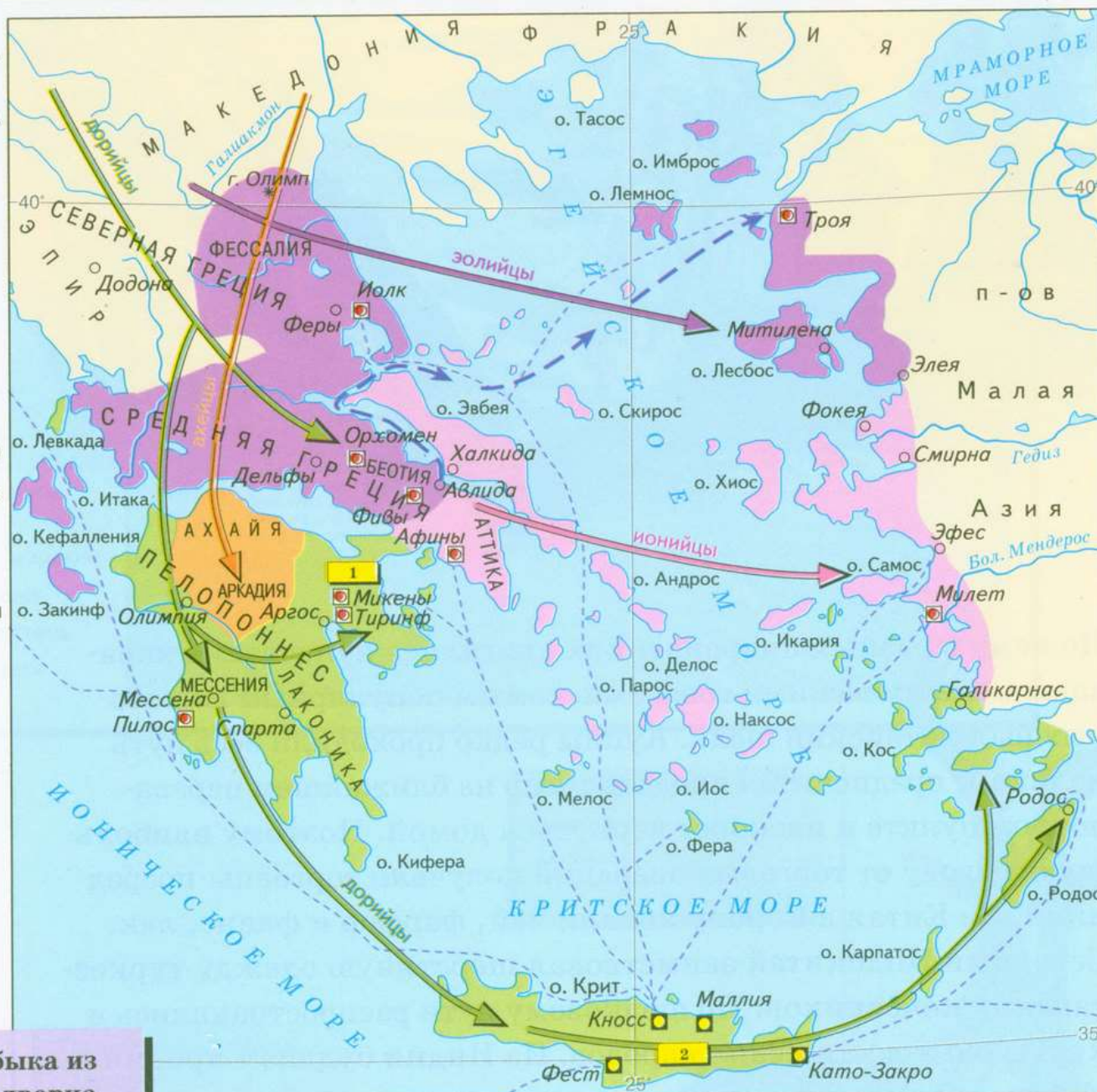
АРКАДИЯ Исторические области

--- Морские торговые пути

Масштаб 1:5 500 000



2 Голова быка из Кносского дворца





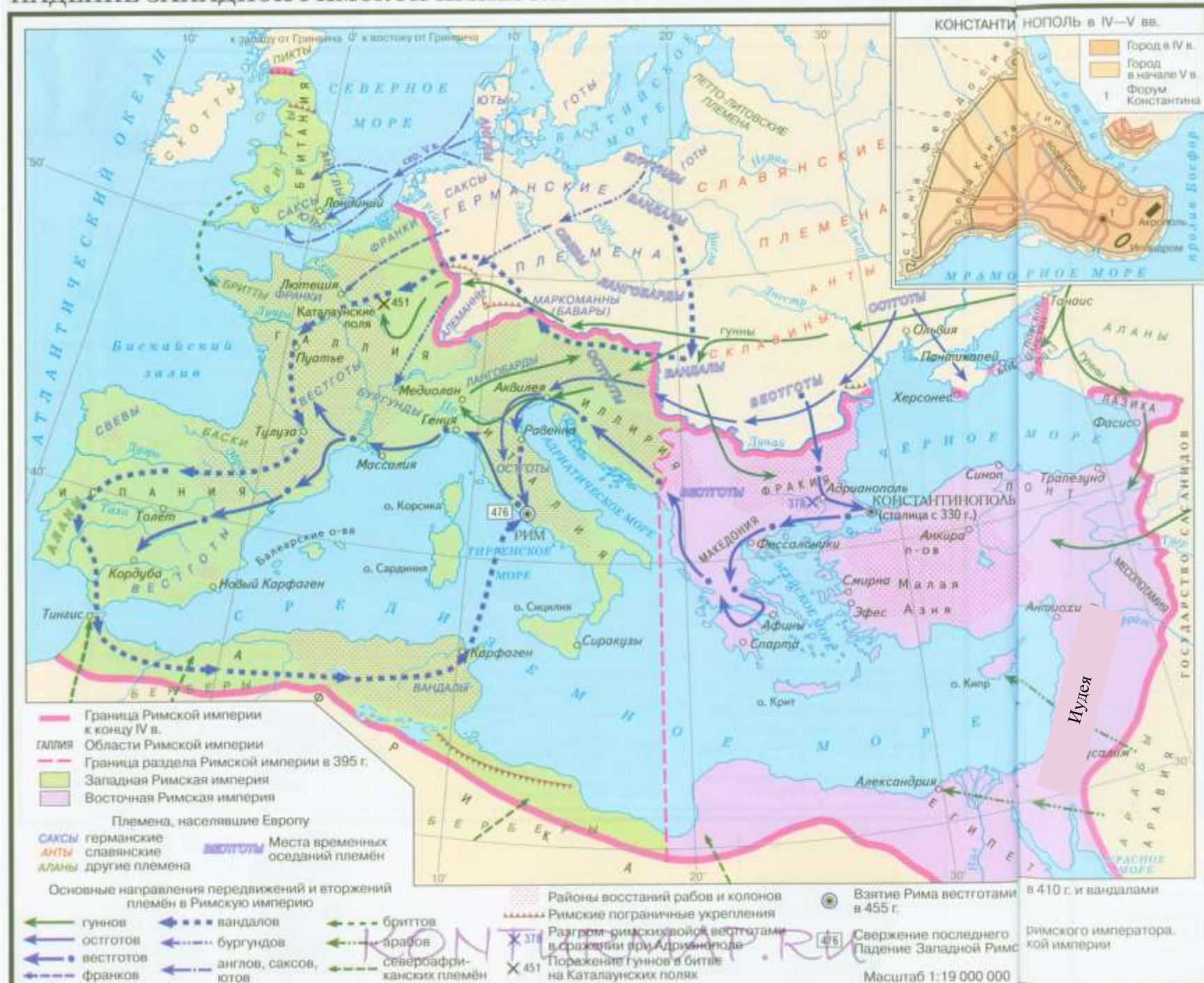
Задание 3.

1. Обозначьте на карте о. Крит, Пелопоннес, Балканский полуостров, полуостров Малая Азия, Эгейское море, Средиземное море, Ионическое море, Черное море.
2. Обозначьте на карте греческие полисы: Спарта, Афины, Коринф, Микены, Милет, Фивы.
3. Обозначьте основные места сражений и битв Греко-персидских войн (Марафонская битва, битва в Саламинском проливе, битва в Фермопильском ущелье)

Условные обозначения:

ВЕЛИКОЕ ПЕРЕСЕЛЕНИЕ НАРОДОВ, IV—V вв. ПАДЕНИЕ ЗАПАДНОЙ РИМСКОЙ ИМПЕРИИ

11



РОСТ РИМСКОГО ГОСУДАРСТВА



Задание 4.

1. Подпишите названия: Апеннинский полуостров, Пиренейский полуостров, Балканский полуостров, полуостров Малая Азия, острова Корсика, Сардиния, Сицилия
2. Обозначьте границу наибольшего расширения Римской империи к концу IV века и лимес
3. Подпишите названия городов: Рим, Капуя, Карфаген, Константинополь
4. Подпишите основные римские провинции: Галлия, Британия, Испания, Африка, Иудея, Египет, Македония, Фракия, Азия.

Условные обозначения: